

2018학년도 10월 고3 전국연합학력평가 정답 및 해설

• 수학 영역 •

수학'가'형 정답

1	5	2	2	3	1	4	3	5	5
6	2	7	2	8	3	9	1	10	4
11	4	12	3	13	3	14	4	15	5
16	1	17	4	18	5	19	2	20	1
21	2	22	24	23	12	24	6	25	2
26	59	27	50	28	131	29	28	30	350

해설

- [출제의도] 벡터의 뉘셈을 계산한다.
 $\vec{a}-\vec{b}=(4, 1)$ 이므로 모든 성분의 합은 $4+1=5$
- [출제의도] 지수함수의 극한값을 계산한다.
 $\lim_{x \rightarrow 0} \frac{e^{3x}-1}{x(x+2)} = \lim_{x \rightarrow 0} \left(\frac{e^{3x}-1}{3x} \times \frac{3}{x+2} \right) = \frac{3}{2}$
- [출제의도] 좌표공간에서 직선의 방정식을 이용하여 미지수의 값을 계산한다.
 직선 $\frac{x+a}{2}=z+2, y=b$ 가 원점을 지나므로
 $\frac{0+a}{2}=0+2, 0=b$ 따라서 $a+b=4$
- [출제의도] 확률의 덧셈정리를 이해한다.
 $P(A \cup B) = P(A) + P(B)$ 에서 $\frac{2}{3} = \frac{1}{6} + P(B)$
 따라서 $P(B) = \frac{1}{2}$
- [출제의도] 접선의 기울기를 이해한다.
 $f(x) = x\sqrt{x} = x^{\frac{3}{2}}$ 이라 하면 $f'(x) = \frac{3}{2}x^{\frac{1}{2}}$ 이므로
 $f'(4) = \frac{3}{2} \times 4^{\frac{1}{2}} = 3$
- [출제의도] 이항분포를 이해한다.
 확률변수 X 는 이항분포 $B(36, \frac{1}{3})$ 을 따르므로
 $V(X) = 36 \times \frac{1}{3} \times \frac{2}{3} = 8$
- [출제의도] 삼각함수의 덧셈정리를 이해한다.
 $\cos \alpha = \frac{4}{5}, \sin \beta = \frac{2\sqrt{5}}{5}$ 이므로
 $\sin(\beta - \alpha) = \sin \beta \cos \alpha - \cos \beta \sin \alpha$
 $= \left(\frac{2\sqrt{5}}{5} \times \frac{4}{5} \right) - \left(\frac{\sqrt{5}}{5} \times \frac{3}{5} \right) = \frac{\sqrt{5}}{5}$
- [출제의도] 자연수의 분할을 이해한다.
 $7 = 6 + 1$
 $= 4 + 3 = 4 + 1 + 1 + 1$
 $= 2 + 5 = 2 + 3 + 1 + 1 = 2 + 1 + 1 + 1 + 1 + 1$
 따라서 구하는 분할의 수는 6이다.
- [출제의도] 부분적분법을 이해한다.
 $\int_1^e (1 + \ln x) dx = [x]_1^e + [x \ln x]_1^e - \int_1^e 1 dx = e$
- [출제의도] 쌍곡선의 성질을 이용하여 미지수의 범위를 이해한다.
 쌍곡선 $x^2 - y^2 = 1$ 과 쌍곡선 $\frac{x^2}{4} - \frac{y^2}{64} = -1$ 의 점근선의 방정식은 각각 $y = \pm x, y = \pm 4x$
 $1 \leq |m| \leq 4$ 이므로 정수 m 의 개수는 8이다.
- [출제의도] 벡터의 내적과 벡터의 크기 사이의 관

계를 이해한다.
 $\vec{AB} \cdot \vec{BC} = 0$ 이므로 $\vec{AB} \perp \vec{BC}$ 이다.
 선분 BC의 중점을 M이라 하면
 $|\vec{AB} + \vec{AC}| = |2\vec{AM}| = 4$ 이므로 $|\vec{AM}| = 2$
 따라서 직각삼각형 ABM에서
 $|\vec{BM}| = \sqrt{|\vec{AM}|^2 - |\vec{AB}|^2} = \sqrt{2^2 - 1^2} = \sqrt{3}$ 이므로
 $|\vec{BC}| = 2|\vec{BM}| = 2\sqrt{3}$
 [다른 풀이]
 $\vec{AB} \cdot \vec{BC} = 0$ 에서
 $\vec{AB} \cdot (\vec{AC} - \vec{AB}) = \vec{AB} \cdot \vec{AC} - |\vec{AB}|^2 = 0$
 이고 $|\vec{AB}| = 1$ 이므로
 $\vec{AB} \cdot \vec{AC} = |\vec{AB}|^2 = 1$
 $|\vec{BC}|^2 = |\vec{AC} - \vec{AB}|^2 = |\vec{AC} + \vec{AB}|^2 - 4\vec{AC} \cdot \vec{AB}$
 $= 4^2 - 4 = 12$
 따라서 $|\vec{BC}| = 2\sqrt{3}$

- [출제의도] 지수함수와 삼각함수가 포함된 부등식을 이해한다.
 (i) $2^x - 8 < 0$ 이고 $\cos x - \frac{1}{2} > 0$ 인 경우
 $0 < x < 3$ 이고 $0 < x < \frac{\pi}{3}$ 이므로 $0 < x < \frac{\pi}{3}$
 (ii) $2^x - 8 > 0$ 이고 $\cos x - \frac{1}{2} < 0$ 인 경우
 $3 < x < \pi$ 이고 $\frac{\pi}{3} < x < \pi$ 이므로 $3 < x < \pi$
 따라서 $0 < x < \frac{\pi}{3}$ 또는 $3 < x < \pi$ 이므로
 $(b-a) + (d-c) = \left(\frac{\pi}{3} - 0 \right) + (\pi - 3) = \frac{4\pi}{3} - 3$
- [출제의도] 정적분으로 정의된 함수를 이해하고 최솟값을 구하는 문제를 해결한다.
 $f'(x) = \frac{2x-1}{x^2-x+1} = 0$ 에서 $x = \frac{1}{2}$ 이고 $x = \frac{1}{2}$ 의 좌우에서 $f'(x)$ 의 부호가 음에서 양으로 바뀌므로 $f(x)$ 는 $x = \frac{1}{2}$ 에서 극소이면서 최소이다.
 $f\left(\frac{1}{2}\right) = \int_0^{\frac{1}{2}} \frac{2t-1}{t^2-t+1} dt = \int_0^{\frac{1}{2}} \frac{(t^2-t+1)' - 1}{t^2-t+1} dt$
 $= \left[\ln|t^2-t+1| \right]_0^{\frac{1}{2}} = \ln \frac{3}{4}$
- [출제의도] 모비율의 신뢰구간을 이용하여 실생활 문제를 해결한다.
 표본비율은 $\hat{p} = 0.2$ 이고 표본의 크기가 충분히 크므로 모비율 p 의 신뢰구간은
 $0.2 - 1.96 \sqrt{\frac{0.2 \times 0.8}{400}} \leq p \leq 0.2 + 1.96 \sqrt{\frac{0.2 \times 0.8}{400}}$
 따라서 $b-a = 2 \times 1.96 \times \sqrt{\frac{0.2 \times 0.8}{400}} = 0.0784$
- [출제의도] 조건부확률을 구하는 상황을 추측한다.
 같이 꺼낸 흰 공의 개수가 홀이 꺼낸 흰 공의 개수보다 많은 사건을 A, 홀이 꺼낸 공이 모두 검은 공인 사건을 B라 하자.
 같이 꺼낸 흰 공의 개수가 홀이 꺼낸 흰 공의 개수보다 많으려면 같이 꺼낸 흰 공이 2개이고 홀이 꺼낸 흰 공이 1개이거나 같이 꺼낸 흰 공이 2개이고 홀이 꺼낸 흰 공이 없어야 한다.
 $P(A) = \frac{{}_3C_2 \times {}_1C_1 \times {}_2C_1}{{}_5C_2} + \frac{{}_3C_2 \times {}_2C_2}{{}_5C_2} = \frac{3}{10}$
 $P(A \cap B) = \frac{{}_3C_2 \times {}_2C_2}{{}_5C_2} = \frac{1}{10}$
 따라서 $P(B|A) = \frac{P(A \cap B)}{P(A)} = \frac{1}{3}$
- [출제의도] 정적분을 이용하여 입체도형의 부피 문제를 해결한다.

점 $(t, 0) \left(\frac{\sqrt{\pi}}{2} \leq t \leq \frac{\sqrt{3\pi}}{2} \right)$ 를 지나고 x 축에 수직인 평면으로 자른 단면의 넓이는
 $2f(t) \times 2f(t) = 4t \sin^2 t$ 이다.
 따라서 구하는 입체도형의 부피는 $\int_{\frac{\sqrt{\pi}}{2}}^{\frac{\sqrt{3\pi}}{2}} 4t \sin^2 t dt$
 $t^2 = u$ 로 놓으면 $\frac{du}{dt} = 2t$ 이므로
 $\int_{\frac{\sqrt{\pi}}{2}}^{\frac{\sqrt{3\pi}}{2}} 4t \sin^2 t dt = 2 \int_{\frac{\pi}{4}}^{\frac{3\pi}{4}} \sin^2 u du$
 $= 2 \times \left[-\cos u \right]_{\frac{\pi}{4}}^{\frac{3\pi}{4}} = 2\sqrt{2}$

- [출제의도] 도형의 성질을 이용하여 삼각함수의 극한값을 추측한다.
 $\vec{BC} = \vec{BD} = \sin \theta$ 이므로 삼각형 BCD는 이등변삼각형이다.
 $\angle BCD = \angle BDC = \frac{\pi}{2} - \theta$
 $\angle CBD = \pi - 2\left(\frac{\pi}{2} - \theta\right) = 2\theta, \angle BDE = 2\theta$
 $\vec{DE} = \sin \theta \cos 2\theta, \vec{BE} = \sin \theta \sin 2\theta$
 따라서 사다리꼴 BCDE의 넓이는
 $S(\theta) = \frac{1}{2} \{ (\sin \theta \cos 2\theta + \sin \theta) \times \sin \theta \sin 2\theta \}$
 $= \frac{1}{2} \sin^2 \theta \sin 2\theta (1 + \cos 2\theta)$
 $\lim_{\theta \rightarrow 0^+} \frac{S(\theta)}{\theta^3} = \lim_{\theta \rightarrow 0^+} \left\{ \left(\frac{\sin \theta}{\theta} \right)^2 \times \frac{\sin 2\theta}{2\theta} \times (1 + \cos 2\theta) \right\}$
 $= 1^2 \times 1 \times 2 = 2$
- [출제의도] 좌표평면 위의 점의 운동 상태와 관련된 문제를 해결한다.
 점 P의 속력이 매초 1이므로 t 초 후 호 AP의 길이가 t 이고 따라서 선분 OP가 x 축의 양의 방향과 이루는 각의 크기는 t 이다. 따라서 직선 OP의 방정식은 $y = (\tan t)x$ 이고, 점 Q는 두 직선 $y = -x + 1$ 과 $y = (\tan t)x$ 의 교점이므로 시각 t 에서의 점 Q의 좌표는 $\left(\frac{1}{1 + \tan t}, \frac{\tan t}{1 + \tan t} \right)$ 이다.
 따라서 점 Q의 속도는
 $\left(-\frac{\sec^2 t}{(1 + \tan t)^2}, \frac{\sec^2 t}{(1 + \tan t)^2} \right)$ 이다.
 점 P의 x 좌표가 $\frac{4}{5}$ 일 때, 점 P는 원 $x^2 + y^2 = 1$ 위의 점이므로 그 좌표는 $P\left(\frac{4}{5}, \frac{3}{5}\right)$ 이다.
 따라서 점 P의 x 좌표가 $\frac{4}{5}$ 일 때의 시각을 t_1 이라 하면 $\tan t_1 = \frac{3}{4}$ 이므로 $\sec^2 t_1 = \frac{25}{16}$
 이때 점 Q의 속도는
 $\left(-\frac{25}{16} \frac{1}{\left(\frac{7}{4}\right)^2}, \frac{25}{16} \frac{1}{\left(\frac{7}{4}\right)^2} \right) = \left(-\frac{25}{49}, \frac{25}{49} \right)$ 이므로
 $b-a = \frac{25}{49} - \left(-\frac{25}{49} \right) = \frac{50}{49}$
- [출제의도] 중복조합을 이용하여 경우의 수를 증명한다.
 $a = 2^{x_1} \times 3^{y_1}, b = 2^{x_2} \times 3^{y_2}, c = 2^{x_3} \times 3^{y_3}, d = 2^{x_4} \times 3^{y_4}$
 이라 하면
 $x_1 + x_2 + x_3 + x_4 = n, y_1 + y_2 + y_3 + y_4 = n$
 (단, $i = 1, 2, 3, 4$ 에 대하여 x_i, y_i 는 음이 아닌 정수)
 이다. 이때 $a+b+c+d$ 가 짝수이므로 a, b, c, d 가 모두 짝수이거나 a, b, c, d 중에서 2개만 짝수이다.
 (i) a, b, c, d 가 모두 짝수인 경우

x_1, x_2, x_3, x_4 가 모두 자연수이고 y_1, y_2, y_3, y_4 는 음이 아닌 정수이므로 순서쌍 $(x_1, x_2, x_3, x_4, y_1, y_2, y_3, y_4)$ 의 개수는 ${}_4H_{n-4} \times {}_4H_n \dots \dots \textcircled{1}$

(ii) a, b, c, d 중에서 2개만 짝수인 경우 x_1, x_2, x_3, x_4 중에서 자연수가 2개이고 0이 2개이므로 순서쌍 (x_1, x_2, x_3, x_4) 의 개수는 ${}_4C_2 \times {}_2H_{n-2}$

이다. 이때 a, b, c, d 중 홀수인 두 수는 1이 될 수 없으므로 순서쌍 (y_1, y_2, y_3, y_4) 의 개수는 ${}_4H_{n-2}$

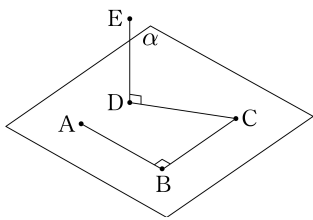
이다. 따라서 순서쌍 $(x_1, x_2, x_3, x_4, y_1, y_2, y_3, y_4)$ 의 개수는 ${}_4C_2 \times {}_2H_{n-2} \times {}_4H_{n-2} \dots \dots \textcircled{2}$

(i), (ii)에 의하여 구하는 경우의 수는 $\textcircled{1} + \textcircled{2}$ 이다. 따라서 $f(n) = n-4, g(n) = {}_2H_{n-2}, h(n) = n-2$
 $f(6) = 6-4=2, g(7) = {}_2H_5 = {}_6C_1 = 6, h(8) = 8-2=6$
 이므로 $f(6) + g(7) + h(8) = 2+6+6=14$ 이다.

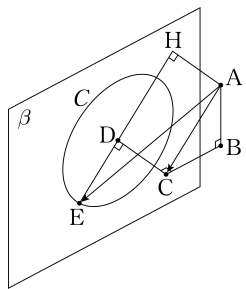
20. [출제의도] 공간에서 직선의 위치관계를 이해하고 벡터의 크기와 내적을 추측한다.

ㄱ. $\overline{AC} = \sqrt{2}, \overline{CE} = \sqrt{2}$ 이므로 두 점 A, E는 점 C를 중심으로 하고 반지름의 길이가 $\sqrt{2}$ 인 구 위의 점이다. 따라서 선분 AE가 구의 지름이 될 때 $|\overline{AE}|$ 는 최대이고 최댓값은 $2\sqrt{2}$ 이다. (참)

ㄴ. 그림과 같이 네 점 A, B, C, D가 평면 α 위에 있고 직선 DE가 평면 α 와 수직이면 $\overline{AB} \perp \overline{DE}$ 이지만 두 선분 BC, CD가 수직이 아닐 때도 있다. (거짓)



ㄷ. $\overline{AB} \perp \overline{CD}$ 이고 $\overline{BC} \perp \overline{CD}$ 이므로 직선 CD는 평면 ABC와 수직이다. $\overline{CD} \perp \overline{DE}$ 이고 $\overline{DE} = 1$ 이므로 점 E는 직선 CD와 수직이고 점 D를 지나는 평면 β 위에서 점 D를 중심으로 하고 반지름의 길이가 1인 원 C 위의 점이다.



점 A에서 평면 β 에 내린 수선의 발을 H라 하면

$$\begin{aligned} \overline{AC} \cdot \overline{AE} &= \overline{HD} \cdot (\overline{AH} + \overline{HD} + \overline{DE}) \\ &= \overline{HD} \cdot \overline{AH} + \overline{HD} \cdot \overline{HD} + \overline{HD} \cdot \overline{DE} \\ &= 0 + |\overline{HD}|^2 + \overline{HD} \cdot \overline{DE} = 2 + \overline{HD} \cdot \overline{DE} \\ &\leq 2 + \sqrt{2} \times 1 \times \cos 0 = 2 + \sqrt{2} \end{aligned}$$

(단, 등호는 $\overline{HD} = k\overline{DE} (k > 0)$ 일 때 성립한다.) (거짓)

따라서 옳은 것은 ㄱ이다.

21. [출제의도] 역함수의 성질과 역함수의 미분법을 이용하여 문제를 해결한다.

$$f'(x) = -\frac{3kx^2(x^2+1) - kx^3(2x)}{(x^2+1)^2} = -\frac{k(x^2+3)x^2}{(x^2+1)^2}$$

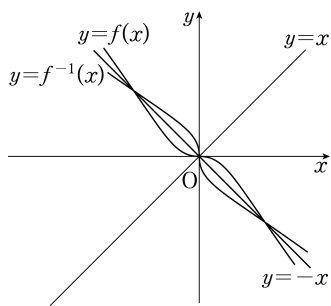
이므로 모든 실수 x 에 대하여 $f'(x) \leq 0$ 이다. 따라서 함수 $f(x)$ 는 실수 전체의 집합에서 감소한다. $\dots \dots \textcircled{1}$

두 곡선 $y=f(x), y=f^{-1}(x)$ 의 임의의 한 교점을 (a, b) 라 하면 점 (b, a) 도 교점이다.

$f(-x) = -f(x)$ 에서 그래프가 원점에 대하여 대칭이므로 곡선 $y=f(x)$ 는 점 $(-a, -b)$ 를 지난다. 따라서 곡선 $y=f(x)$ 는 두 점 $(b, a), (-a, -b)$ 를 지난다.

$a \neq -b$ 이면 두 점 $(b, a), (-a, -b)$ 를 지나는 직선의 기울기는 $\frac{a-(-b)}{b-(-a)} = 1$ 이므로 $\textcircled{1}$ 에 모순이다.

따라서 $a = -b$ 이고 두 곡선 $y=f(x), y=f^{-1}(x)$ 의 교점은 모두 직선 $y=-x$ 위에 있다.



$f(x) = -x$ 에서 $-\frac{kx^3}{x^2+1} = -x$ 이고 방정식을 풀면

$$x = -\sqrt{\frac{1}{k-1}} \text{ 또는 } x=0 \text{ 또는 } x = \sqrt{\frac{1}{k-1}}$$

이므로 $\alpha = -\sqrt{\frac{1}{k-1}}, \beta = \sqrt{\frac{1}{k-1}}$ 이다.

함수 $h(x) = f(x-2\beta) + 2\alpha$ 라 하면 $h(\beta) = f(-\beta) + 2\alpha = f(\alpha) + 2\alpha = \beta + 2\alpha = \alpha$ 따라서 $g(\alpha) = \beta$ 이므로 역함수의 미분법에 의하여

$$g'(\alpha) = \frac{1}{h'(\beta)} \text{ 이고, } h'(x) = f'(x-2\beta) \text{ 이므로}$$

$$g'(\alpha) = \frac{1}{f'(-\beta)} \dots \dots \textcircled{2}$$

$f(-x) = -f(x)$ 의 양변을 미분하여 정리하면 $f'(-x) = f'(x)$ 이므로 $f'(-\beta) = f'(\beta)$

따라서 $\textcircled{2}$ 에서 $g'(\alpha) = \frac{1}{f'(\beta)}$ 이므로

$$f'(\beta) = 2g'(\alpha) = \frac{2}{f'(\beta)} \text{ 에서 } \{f'(\beta)\}^2 = 2$$

$$\textcircled{1} \text{에서 } f'(\beta) = -\sqrt{2}$$

$$f'(\beta) = -\frac{k\left(\frac{1}{k-1} + 3\right)\left(\frac{1}{k-1}\right)}{\left(\frac{1}{k-1} + 1\right)^2} = -\frac{3k-2}{k} = -\sqrt{2}$$

$$k = \frac{2}{3-\sqrt{2}} = \frac{6+2\sqrt{2}}{7}$$

22. [출제의도] 순열의 수를 계산한다.

4명을 일렬로 세우는 경우의 수는 ${}_4P_4 = 4! = 24$

23. [출제의도] 합성함수의 미분법을 이용하여 미분계수를 계산한다.

$$f'(x) = 4e^{3x-3} \times 3 = 12e^{3x-3} \text{ 이므로 } f'(1) = 12$$

24. [출제의도] 로그함수의 그래프의 성질을 이해한다.

$A(1, 0), B(k, \log_2 k), C\left(k, \log_{\frac{1}{2}} k\right)$ 이므로 삼각형 ACB의 무게중심의 좌표는 $\left(\frac{2k+1}{3}, 0\right)$ 이고

$$\frac{2k+1}{3} = 3 \text{ 에서 } k = 4$$

따라서 $B(4, 2), C(4, -2)$ 이므로

삼각형 ACB의 넓이는 $\frac{1}{2} \times 4 \times 3 = 6$

25. [출제의도] 매개변수로 나타내어진 함수의 미분법을 이해한다.

$$\frac{dx}{dt} = \frac{1}{t}, \frac{dy}{dt} = \frac{2t}{t^2+1} \text{ 이므로 } \frac{dy}{dx} = \frac{\frac{dy}{dt}}{\frac{dx}{dt}} = \frac{2t^2}{t^2+1}$$

$$\text{따라서 } \lim_{t \rightarrow \infty} \frac{dy}{dx} = \lim_{t \rightarrow \infty} \frac{2t^2}{t^2+1} = 2$$

26. [출제의도] 정규분포의 표준화를 이해한다.

$$P\left(Z \geq \frac{k-50}{\sigma}\right) = P\left(Z \leq \frac{k-65}{2\sigma}\right) \text{ 에서}$$

$$\frac{k-50}{\sigma} = -\frac{k-65}{2\sigma} \text{ 이므로 } k = 55$$

$$P\left(Z \geq \frac{55-50}{\sigma}\right) = P\left(Z \geq \frac{5}{\sigma}\right) = 0.1056 \text{ 이므로}$$

$$P\left(0 \leq Z \leq \frac{5}{\sigma}\right) = 0.5 - 0.1056 = 0.3944$$

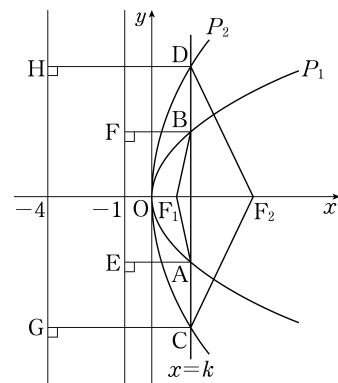
$$\frac{5}{\sigma} = 1.25, \sigma = 4 \text{ 이므로 } k + \sigma = 55 + 4 = 59$$

27. [출제의도] 포물선의 정의를 이용하여 도형 문제를 해결한다.

포물선 P_1 의 방정식은 $y^2 = 4x$ 이고

포물선 P_2 의 방정식은 $y^2 = 16x$ 이다.

두 점 A, B에서 P_1 의 준선 $x=-1$ 에 내린 수선의 발을 각각 E, F라 하고, 두 점 C, D에서 P_2 의 준선 $x=-4$ 에 내린 수선의 발을 각각 G, H라 하자.



$\overline{AE} = \overline{BF} = \overline{AF_1} = \overline{BF_1} = k+1$ 이고 점 A와 점 B의 y좌표는 각각 $-2\sqrt{k}, 2\sqrt{k}$ 이므로

$$l_1 = 2(k+1) + 4\sqrt{k}$$

$\overline{CG} = \overline{DH} = \overline{CF_2} = \overline{DF_2} = k+4$ 이고 점 C와 점 D의 y좌표는 각각 $-4\sqrt{k}, 4\sqrt{k}$ 이므로

$$l_2 = 2(k+4) + 8\sqrt{k}$$

$$\text{따라서 } l_2 - l_1 = 6 + 4\sqrt{k} = 11$$

$$k = \left(\frac{5}{4}\right)^2 = \frac{25}{16} \text{ 이므로 } 32k = 50$$

28. [출제의도] 수학적 확률을 이용하여 실생활 문제를 해결한다.

처음에 스티커가 붙어 있는 카드를 A, B, 스티커가 붙어 있지 않은 카드를 C, D, E라 하자.

(i) 스티커가 3개 붙어 있는 카드가 2장일 경우 첫 번째 시행에서 A, B를 모두 꺼내고, 두 번째 시행에서도 A, B를 모두 꺼내야 하므로 그 확률은

$$\frac{{}_2C_2 \times {}_2C_2}{{}_5C_2 \times {}_5C_2} = \frac{1}{100}$$

(ii) 스티커가 3개 붙어 있는 카드가 1장일 경우

1) 첫 번째 시행에서 A, B를 모두 꺼내는 경우 두 번째 시행에서는 A, B 중에서 1장, C, D, E 중에서 1장을 꺼내야 한다.

이 경우의 확률은

$$\frac{{}_2C_2 \times {}_2C_1 \times {}_3C_1}{{}_5C_2 \times {}_5C_2} = \frac{6}{100}$$

2) 첫 번째 시행에서 A, B 중에서 1장, C, D, E 중에서 1장을 꺼내는 경우

첫 번째 시행에서 A, B 중에서 꺼낸 카드를 X, 꺼내지 않은 카드를 Y라 하면 두 번째 시행에서는 X를 반드시 꺼내고 나머지 1장을 Y, C, D, E 중에서 꺼내야 한다.

이 경우의 확률은

$$\frac{{}_2C_1 \times {}_3C_1 \times {}_1C_1 \times {}_4C_1}{{}_5C_2 \times {}_5C_2} = \frac{24}{100}$$

따라서 스티커가 3개 붙어 있는 카드가 1장일 확률은

$$\frac{6}{100} + \frac{24}{100} = \frac{30}{100}$$

(i), (ii)에 의하여 구하는 확률은

$$\frac{1}{100} + \frac{30}{100} = \frac{31}{100}$$

$p=100, q=31$ 이므로 $p+q=131$

29. [출제의도] 공간도형의 성질을 이용하여 문제를 해결한다.

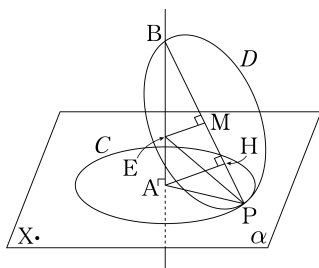
선분 BP의 중점 M을 지나고 직선 AH와 평행한 직선이 선분 AB와 만나는 점을 E라 하자. 이때 점 M은 원 D의 중심이고, 직선 ME는 선분 BP의 수직이등분선이므로 $\overline{BE} = \overline{PE}$ 이다. 이때 삼각형 APB에서 $\overline{AP} = \sqrt{3}, \overline{AB} = 3, \angle PAB = 90^\circ$ 이므로

$$\overline{BP} = \sqrt{(\sqrt{3})^2 + 3^2} = 2\sqrt{3}, \overline{BM} = \frac{1}{2}\overline{BP} = \sqrt{3}$$

삼각형 APB와 삼각형 MEB는 서로 닮음이므로

$$\overline{ME} = \frac{1}{\sqrt{3}}\overline{BM} = 1, \overline{BE} = 2\overline{ME} = 2$$

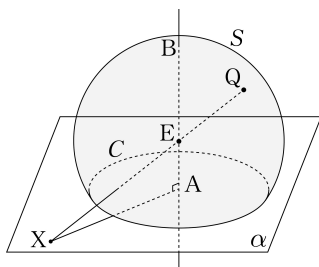
따라서 $\overline{PE} = \overline{BE} = 2$



직선 ME는 원 D의 중심 M을 지나고 원 D를 포함하는 평면에 수직인 직선이므로 원 D 위의 임의의 점 Q에 대하여 $\overline{QE} = \overline{BE} = 2$ 이다.

따라서 점 Q는 점 E를 중심으로 하고 반지름의 길이가 2인 구 위의 점이다.

이 구가 평면 alpha에 의해 잘려서 생기는 두 부분 중 점 B가 속한 부분(원 C 포함)을 S라 하면 점 P가 원 C 위를 움직일 때 원 D가 나타내는 도형이 S이다.



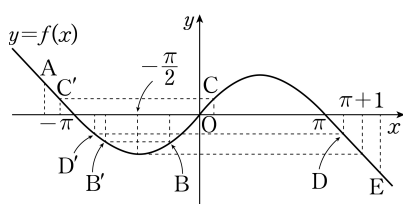
원 D 위의 점 Q는 도형 S 위의 점이므로 선분 XQ의 길이는 선분 XQ가 구의 중심 E를 지날 때 최대이고, 최댓값은

$$\overline{XE} + \overline{EQ} = \sqrt{\overline{XA}^2 + \overline{AE}^2} + 2 = \sqrt{5^2 + 1^2} + 2 = 2 + \sqrt{26}$$

$m=2, n=26$ 이므로 $m+n=28$

30. [출제의도] 삼각함수의 성질과 정적분을 이용하여 문제를 해결한다.

부등식 $f(x) \leq f(t)$ 를 만족시키는 x 의 범위는 곡선 $y=f(x)$ 가 직선 $y=f(t)$ 와 만나거나 아래쪽에 그려지는 실수 x 의 범위와 같다. 따라서 직선 $y=f(t)$ 와 곡선 $y=f(x)$ 가 만나는 점의 x 좌표 중 가장 작은 값이 $g(t)$ 이다.



(i) $t \leq -\frac{\pi}{2}$ 일 때

점 A의 x 좌표가 t 일 때, 점 A를 지나고 x 축에 평행한 직선이 그래프와 만나는 점 중 x 좌표가 가장 작은 점은 A이다.

따라서 $g(t) = t$ 이다.

(ii) $-\frac{\pi}{2} < t \leq 0$ 일 때

점 B의 x 좌표가 t 일 때, 점 B를 지나고 x 축에 평행한 직선이 그래프와 만나는 점 중 x 좌표가 가장 작은 점은 B'이다.

따라서 점 B'의 x 좌표가 $g(t)$ 이다.

두 점 B, B'은 직선 $x = -\frac{\pi}{2}$ 에 대하여 대칭이

므로

$$\frac{t+g(t)}{2} = -\frac{\pi}{2} \text{ 에서 } g(t) = -t - \pi \text{ 이다.}$$

(iii) $0 < t \leq \pi$ 일 때

점 C의 x 좌표가 t 일 때, 점 C를 지나고 x 축에 평행한 직선이 그래프와 만나는 점 중 x 좌표가 가장 작은 점은 C'이다.

따라서 점 C'의 x 좌표가 $g(t)$ 이다.

점 C는 곡선 $y = \sin x$ 위의 점이고 점 C'은 직선 $y = -x - \pi$ 위의 점이므로

$$\sin t = -g(t) - \pi \text{ 에서 } g(t) = -\sin t - \pi \text{ 이다.}$$

(iv) $\pi < t \leq \pi + 1$ 일 때

점 D의 x 좌표가 t 일 때, 점 D를 지나고 x 축에 평행한 직선이 그래프와 만나는 점 중 x 좌표가 가장 작은 점은 D'이다.

따라서 점 D'의 x 좌표가 $g(t)$ 이다.

점 D는 직선 $y = -x + \pi$ 위의 점이고 점 D'은 곡선 $y = \sin x$ 위의 점이므로

$$-t + \pi = \sin g(t) \text{ 이다.}$$

$$\text{함수 } y = \sin x \left(-\pi \leq x \leq -\frac{\pi}{2} \right) \text{의 역함수를}$$

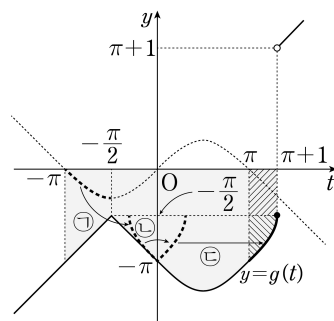
$$h(x) \text{라 하면 } g(t) = h(-t + \pi) \text{ 이다.}$$

(v) $t > \pi + 1$ 일 때

점 E의 x 좌표가 t 일 때, 점 E를 지나고 x 축에 평행한 직선이 그래프와 만나는 점 중 x 좌표가 가장 작은 점은 E이다.

따라서 $g(t) = t$ 이다.

함수 $g(t)$ 는 $t = \pi + 1$ 에서 불연속이므로 $\alpha = \pi + 1$ 이고 그래프는 그림과 같다.



$$\int_{-\pi}^{\pi} g(t) dt$$

$$= \left[\frac{t^2}{2} \right]_{-\pi}^{-\frac{\pi}{2}} + \left[-\frac{t^2}{2} - \pi t \right]_{-\frac{\pi}{2}}^0 + \left[\cos t - \pi t \right]_0^{\pi}$$

$$= -\frac{7}{4}\pi^2 - 2$$

한편 위의 그림에서

$$y = \sin t \left(-\pi \leq t \leq -\frac{\pi}{2} \right)$$

$$\xrightarrow{\text{직선 } y=t \text{ 대칭}} y = h(t)$$

$$\xrightarrow{y \text{ 축 대칭}} y = h(-t)$$

$$\xrightarrow{\text{평행이동}} y = h(-t + \pi)$$

이므로

$$\int_{\pi}^{\alpha} g(t) dt = -(\text{빛금 친 부분의 넓이})$$

$$= -\left(1 \times \frac{\pi}{2} + \int_0^{\frac{\pi}{2}} \sin t dt \right) = -\frac{1}{2}\pi - 1$$

$$\text{따라서 } \int_{-\pi}^{\alpha} g(t) dt = -\frac{7}{4}\pi^2 - \frac{1}{2}\pi - 3$$

$$p = -\frac{1}{2}, q = -3 \text{ 이므로 } 100 \times |p+q| = 350$$